

## చుట్టు కొలత

1) కిశోర్ తన పొలానికి ఉదయాన్నే రెండు సార్లు తన పొలంచుట్టు తిరిగి వస్తాడు. ఆ పొలం యొక్క పొడవు, వెడల్పులు వరుసగా



200 మీటర్లు 150 మీటర్లు అయితే అతను ప్రతిరోజు ఎన్ని మీటర్లు నడుస్తాడు.

2)



దీపావళి పండుగ సందర్భంగా పంకజ్ తన దుకాణం యొక్క నేమ్ బోర్డు నాలుగు వైపులా లైటింగ్ పెట్టాలనుకున్నాడు. బోర్డు యొక్క పొడవు 20 మీటర్లు, వెడల్పు 15 మీటర్లు అయితే ఎన్ని మీటర్ల లైటింగ్ వైర్ అవసరం అవుతుంది.

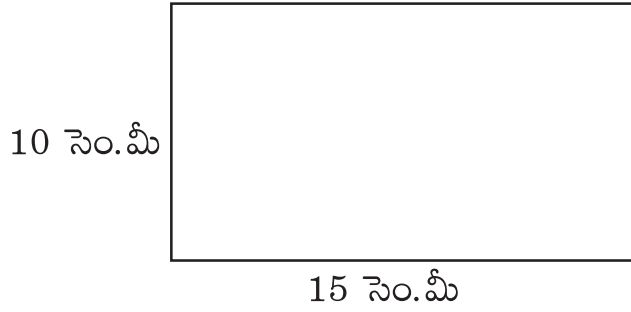
3) శ్రీవల్లి తన ఫ్రాక్ కి రంగురంగుల కుచ్చుళ్ళు రిబ్బను పెట్టాలను కుంటుంది. అయితే శ్రీ వల్లికి క్రింది వాటిలో ఏ విషయాలు తెలియాలి.

వైశాల్యము  చుట్టుకొలత  పొడవు

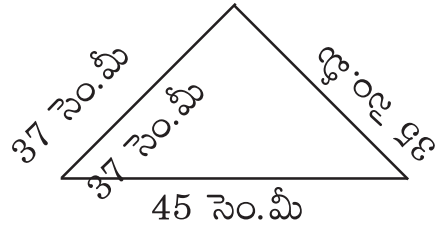
4) మోహన్ ఒక క్రొత్త ఇల్లు కట్టాడు. అతను ఇంటి నాలుగు వైపులా వైరు కంచెను వేయాలి. అనుకున్నాడు. అయితే అతను 50 మీటర్ల పొడవు, 20 మీటర్ల వెడల్పు గల కంచెను వేయాలనుకుంటే ఎన్ని మీటర్ల వైర్ అవసరం.

5) తులసి తన చున్నకి నాలుగు వైపుల లేస్ పెట్టాలనుకుంది, చున్న యొక్క పొడవు 2మీటర్లు, 1 వెడల్పు 1 మీటరు ఉంది. అయితే తులసి ఎన్ని మీటర్ల లేస్ తెస్తుంది.

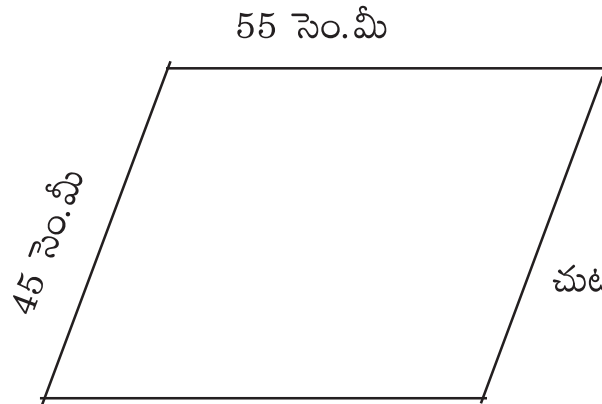
6) క్రింద ఇచ్చిన ఆకృతుల యొక్క చుట్టుకొలతను వ్రాయండి.



చుట్టు కొలత = \_\_\_\_\_



చుట్టు కొలత = \_\_\_\_\_



చుట్టు కొలత = \_\_\_\_\_