











4)

ప్రశ్న క్రింద ఉన్న వస్తువుల ధర (రూ) క్రింద ఉన్న వస్తువుల ధర (రూ॥లు)

1	 = 49	 = _____
2	 = 180	 = _____
3	 = 250	 = _____
4	 = 2	 = _____



5) ఖాళీలను పూరించండి.

8 కేజీల బియ్యం ధర = 320 రూ॥లు

2 కేజీల బియ్యం ధర =.....



5 కె.జి = 70 రూ॥లు

3 కె.జిల ధర =.....



ఈ బొమ్మలో చూపించిన రెండు జగ్గుల ఖరీదు 250 రూపాయలు అయితే మీరు 3 జగ్గులకు ఎంత చెల్లించాల్సి ఉంటుంది.



ఏదైనా ఒక దుకాణంలో 100 రూ॥లకు ఒక డజను చెంచాలు దొరుకుతాయి కానీ మీకు 5 చెంచాలు మాత్రమే కావాలి. అయితే మీరు దుకాణదారునికి ఎన్ని రూపాయలు ఇవ్వవలసి వస్తుంది.



మీ ఇంటి యొక్క ప్రతిరోజు ఖర్చు 400 రూ॥లు మీరు ఇంట్లో డ్రస్ మెటీరియల్ను కుడతారు. దానితో మీ ఇల్లు గడుస్తుంది. మీరు ఒక డ్రస్ కుడితే 250రూ॥లు వస్తాయి. మీ ఇంటికి బయటి నుండి అతిధులు వస్తున్నారని తెలిసింది. దానికోసం 350/-రూ॥లు అవసరం పడుతుంది. అయితే మీరు ఇప్పుడు చెప్పండి మీ ఇంటి ఖర్చుతోపాటు, అతిధుల యొక్క ఖర్చు కూడా భరించటానికి మీరు ఎన్ని డ్రస్లు కుట్టాలి.

ప్రతిరోజు 100 కవర్లను తయారు చేస్తే 25రూ॥లు వస్తాయి. అయితే 300 కవర్లను తయారు చేస్తే ఎన్ని డబ్బులు వస్తాయి.



50 బొట్టు ప్యాకెట్లను తయారు చేస్తే 10రూ॥లు వస్తాయి. అయితే ప్రతిరోజు 100 రూ॥లు సాధించటానికి ఎన్ని ప్యాకెట్లు తయారు చేయాలి.

